


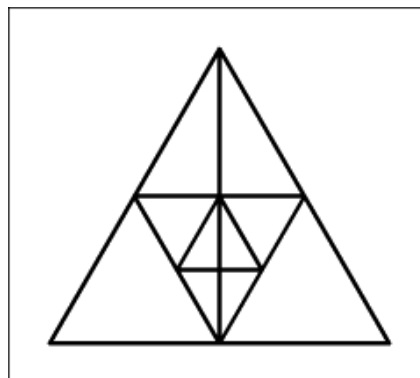
40. GEOMETRICKÉ HLAVOLAMY

" JEDNÍM TAHEM "




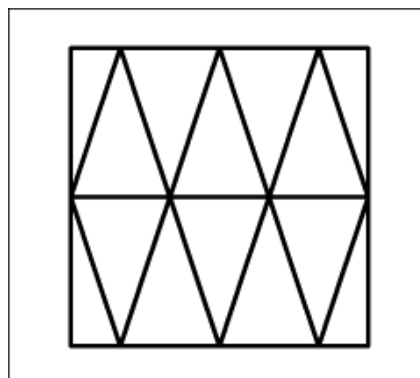
1.

NAKRESLI TENTO OBRÁZEK
JEDNÍM TAHEM
TAK, ABYS NEŠEL DVAKRÁT
PO STEJNÉ ČÁŘE !




2.

NAKRESLI TENTO OBRÁZEK
JEDNÍM TAHEM
TAK, ABYS NEŠEL DVAKRÁT
PO STEJNÉ ČÁŘE A ABY SE
ČÁRY NEKŘIŽOVALY !



3.

SPOJ ČTYŘMI ÚSEČKAMI TĚCHTO
DEVĚT BODŮ TAK, ABY VŠECHNY
ÚSEČKY NA SEBE POSTUPNĚ
NAVAZOVALY -
JEDNÍM TAHEM !



4.

TĚCHTO 25 BODŮ SPOJ
8 ÚSEČKAMI TAK, ABY
VŠECHNY POSTUPNĚ NA SEBE
NAVAZOVALY - **JEDNÍM TAHEM !**

